

Ülkemizin Kaynakları - 1

1. Türkiye’de ormancılık faaliyetlerinin çoğunlukla kıyı bölgelerde yapılmasının temel nedeni aşağıdakilerden hangisidir?

- A) Kıyı bölgelerde sanayi faaliyetlerinin gelişmesi
- B) Kıyı bölgelerde yaşayan insanların temel ekonomik faaliyeti olarak ormancılığı kabul etmesi
- C) Kıyı bölgelerde nem ve yağış miktarının fazla olması
- D) Kıyı bölgelerde turizm faaliyetlerinin yaygın bir şekilde yapılması

2. Yer şekilleri ve iklim özellikleri sebebiyle Doğu Anadolu Bölgesi’nde tarımsal üretim azdır. Bunun yerine insanlar genellikle büyükbaş hayvancılık yapmaktadırlar.

**Buna göre Doğu Anadolu Bölgesi’nde aşağıda verilen sanayi dallarından hangisi daha gelişmiştir?**

- A) Otomotiv
- B) Konserve
- C) Meyve suyu
- D) Et ve süt ürünleri

3. Bir iş adamı olan Ali Bey, Konya’da un fabrikası kurmaya karar verir.

**Ali Bey’in un fabrikası kurmak için Konya’yı tercih etmesinin temel nedeni aşağıdakilerden hangisidir?**

- A) Ulaşım imkanlarının gelişmiş olması
- B) Nitelikli insan gücünün var olması
- C) Hammadde yönünden zengin olması
- D) Pazarlama imkânlarının uygun olması

4. “Yaşadığım şehirde ormanlar geniş yer tutuyor. Arazilerimiz çok geniş ve verimlidir. Ayrıca deniz kenarında bulunan şehrimizin iklimi de ılıman, yazları sıcak ve uzundur.”

**Bu bilgiler doğrultusunda bu şehir ile ilgili aşağıdaki yorumlardan hangisi yapılamaz?**

- A) Deniz turizmi yapılabilir.
- B) Ormancılık faaliyetlerine uygundur.
- C) Tarımsal üretim yapılıdır.
- D) Maden üretimi fazladır.

5. Aşağıdakilerden hangisi ülkemizin doğal kaynakları arasında gösterilmez?

- A) Atatürk Barajı
- B) Van Gölü
- C) Konya Ovası
- D) Karadeniz ormanları

6. Su gücüyle üretilen elektrik enerjisine hidroelektrik enerji denir. Hidro enerji, işleyiş olarak öncelikle büyük miktardaki suyun belirlenmiş bir yükseklikten salınmasıyla oluşan enerjinin türbin kullanılarak mekanik enerjiye dönüştürülmesi esasına dayanır.

**Buna göre aşağıdaki bölgelerden hangisinin akarsularını hidroelektrik santral kurmak için daha uygundur?**

- A) İç Anadolu Bölgesi
- B) Doğu Anadolu Bölgesi
- C) Ege Bölgesi
- D) Marmara Bölgesi

## Ülkemizin Kaynakları - 1

7. Ülkemizde en fazla yetiştirilen tarım ürününün tahli-giller olmasının temel nedeni aşağıdakilerden hangisidir?





- A) Fazla tüketilmesi
- B) Besleyici olması
- C) İklim şartlarının elverişli olması
- D) İşlenmesinin kolay olması

8. Ülkemizin tuz ihtiyacının önemli bir kısmının sağlandığı Tuz Gölü'nde, gölü besleyen derelerin suyuna karışan atıklar ve kirli sular nedeni ile yapısal bozukluklarla karşılaşmaktadır. Gölü besleyen derelerin ve yer altı sularının sulama amacı ile kullanılması sonucu göl kurumaya başlayarak zamanla küçülmüştür.

**Metne göre Tuz Gölü ile ilgili aşağıdakilerden hangisi söylenemez?**

- A) Ülkemizin önemli tuz kaynaklarından biridir.
- B) Zamanla kuruyarak küçülmeye başlamıştır.
- C) Türkiye'nin en büyük ikinci gölüdür.
- D) Bilinçsiz uygulamalar yüzünden göl kurumaya yüz tutmuştur.

9. Aşağıdaki ekonomik faaliyetlerden hangisinin küresel ısınma üzerindeki etkisi daha fazladır?

- A)  Tarım
- B)  Sanayi
- C)  Madencilik
- D)  Turizm

10. Hayat kaynaklarımızdan biri olan toprak; tarım ve hayvancılık faaliyetlerinin vazgeçilmez kaynaklarından biri olduğu gibi, sanayide de ham madde olarak kullanılmaktadır.

**Aşağıdakilerden hangisinin üretiminde toprak ham madde olarak kullanılmaz?**

- A) Mobilya
- B) Çimento
- C) Fayans
- D) Kiremit

11. Aşağıdakilerden hangisi tarımsal üretimi olumsuz etkilemektedir?

- A) Sulama
- B) Tohum ıslahı
- C) Gübreleme
- D) Erozyon

12. Nüfus artışı ile birlikte kişi başına düşen temiz su ihtiyacı artmaktadır. Bu nedenle temiz su tüketirken dikkat edilmesi, su olabildiğince tasarruflu kullanılmalıdır.

**Buna göre aşağıdakilerden hangisi su kaynaklarında tasarruf tedbirlerinden biri değildir?**

- A) Bulaşıkları elde yıkamak
- B) Evdeki bozuk muslukları tamir etmek
- C) Tıraş olurken, diş fırçalarken muslukları kapatmak
- D) Çamaşır makinesini tam doldurmadan çalıştırmamak

