

Sosyal Bilgiler Öğreniyorum - 2

1. I. Konuyu belirleme
II. Hipotezleri belirleme
III.
IV. Hipotezleri sınıma
V. Rapor oluşturma

Yukarıda verilen bilimsel araştırma basamaklarında boş bırakılan yere aşağıdakilerden hangisi gelmelidir?

- A) Kaynakça oluşturma
B) Konu ile ilgili bilgi toplama
C) Dipnot hazırlama
D) Metin yazma

2. I. Cumhuriyet 29 Ekim 1923'te ilan edildi.
II. Ülkemiz yedi bölgeden oluşur.
III. Marmara bölgemiz diğer bölgelerden daha güzeldir.
IV. Sporlar içinde en eğlencelisi güreş sporudur.

Yukarıda verilen olgu ve görüşlerin doğru sıralaması aşağıdakilerden hangisidir?

GÖRÜŞ

OLGU

- A) I ve IV. II ve III.
B) I ve III. II ve IV.
C) I ve II. III ve IV.
D) III ve IV. I ve II.

3. Şahin Bey oğluna yeni bir bilgisayar almıştır. Fakat eve geldiğinde aldığı ürünün çalışmadığını farketmiştir.

Bu durumda Şahin Bey aşağıdakilerden hangisini yapmalıdır?

- A) Doğrudan bilgisayar tamircisine gitmelidir.
B) Alınan ürün kullanıldığı için yapılacak bir şey yoktur.
C) Alışveriş belgeleri ile ürün satıcısına gitmelidir.
D) Bilgisayarı kendisi tamir etmeye çalışmalıdır.

4. I. Dilekçe yazmak
II. Mitingler düzenlemek
III. İmza toplamak
IV. Basın açıklaması yapmak

Verilenlerden hangileri hak arama yollarındandır?

- A) I, II ve III. B) II, III ve IV.
C) I, II ve IV. D) I, II, III ve IV.

5. **Aşağıdakilerden hangisi sosyal bilgiler dersinin içeriğini oluşturan bilim dallarından biri değildir?**

- A) Biyoloji B) Tarih
C) Coğrafya D) Vatandaşlık

6. Zeynep'e, öğretmeni sosyal bilgiler dersinde "Anadolu Uygarlıkları" konulu araştırma ödevi verdi. Zeynep konuyla ilgili varsayımlarını belirleyerek, araştırmasına başladı. Çeşitli kaynaklardan araştırmalar yaparak, konuyla ilgili metnini oluşturdu.

Buna göre Zeynep, bilimsel araştırma basamaklarından hangisini uygulamamıştır?

- A) Konuyu belirleme
B) Varsayımda bulunma
C) Bilgilerin doğruluğunu sınıma
D) Konuyu yazma





Sosyal Bilgiler Öğreniyorum - 2

7.



Sosyal bilgiler dersinin katkıları nelerdir?

Öğretmenin sorusuna aşağıda verilen öğrencilerden hangisi yanlış cevap vermiştir?

- A)  Emel
Özgür bir birey olarak fiziksel, duygusal özelliklerimizin; ilgi, istek ve yeteneklerimizin farkına varırız.
- B)  Kemal
Vücudumuzdaki dolaşım sistemleri hakkında bilgi edinmemize yardımcı olur.
- C)  Esin
Yaşadığımız çevrenin ve dünyanın coğrafi özelliklerini tanıyarak insanlar ile doğal çevre arasındaki etkileşimi açıklarız.
- D)  Selim
Hukuk kurallarının herkes için bağlayıcı olduğunu, tüm kişi ve kuruluşların yasalar önünde eşit olduğunu gerekçeleriyle biliriz.

8. Atatürk, Türklerin dünya tarihinin en eski çağlardan beri tarihteki hakiki yerini ve dünya uygarlığına hangi katkıları sağladıklarının araştırılması gerektiğine inanmaktaydı.

Bunun üzerine aşağıdakilerden hangisi gerçekleştirilmiştir?

- A) Türkiye Büyük Millet Meclisinin açılması
B) Türk Tarih Kurumunun açılması
C) Türk Dil Kurumunun açılması
D) Yeni Türk harflerinin kabulü

9.



Ayşe

Mahallemizin hemen yakınında bulunan bir fabrikanın bacasından çıkan dumanlar ve fabrikanın atıkları mahalle halkımızın çoğunda astım ve alerji gibi hastalıklara neden olmaya başladı. Ayrıca hayvanlarımız ölüyor, ekinlerimiz de zarar görüyor.

Buna göre, Ayşe aşağıdakilerden hangisini yaparsa ortaya çıkan soruna ilişkin çözüm üretmiş olur?

- A) İlgili yerlere şikayette bulunmak
B) Fabrikanın çalışmasını engellemek
C) Başka bir yere taşınmak
D) Fabrikada işe başlamak

10. Aşağıdakilerden hangisi bir sorunla karşılaştığımızda izleyeceğimiz yollardan değildir?

- A) İlgili yerlere dilekçe vermek
B) Tüketici Hakları Hakem Heyetine başvurmak
C) İstek-şikayet formu doldurmak
D) Sorun karşısında geri adım atmak

11.



Yukarıda verilenlerden hangisi Türk Dil Kurumunun kurulmasının amaçlarından değildir?

- A) I. B) II. C) III. D) IV.

